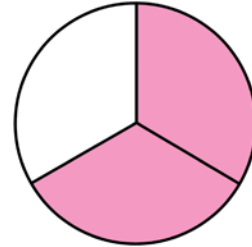


# Kolorowe ułamki (2)

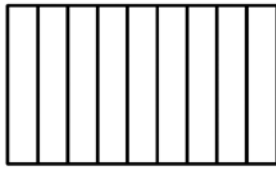
Postępując się przykładem, zakoloruj odpowiednią część każdej figury.

PRZYKŁAD:

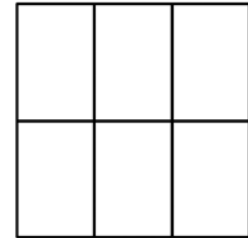
$\frac{2}{3}$ 
  
 licznik
   
*tyle części należy zamalować*
  
 mianownik
   
*na tyle części podzielono figurę*



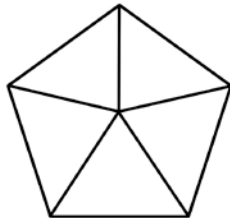
$\frac{5}{9}$



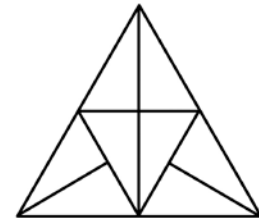
$\frac{4}{6}$



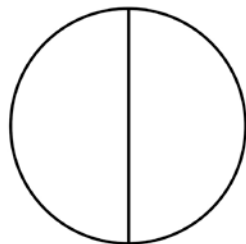
$\frac{1}{5}$



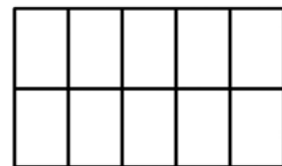
$\frac{2}{8}$



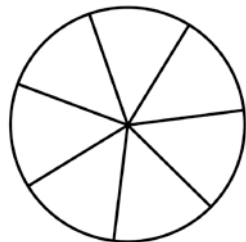
$\frac{2}{2}$



$\frac{9}{10}$



$\frac{1}{7}$



$\frac{2}{4}$

