

Kolorowe ułamki (1)

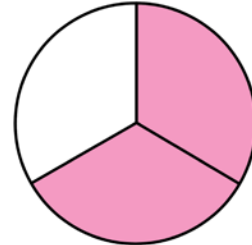
Postępując się przykładem, zakoloruj odpowiednią część każdej figury.

PRZYKŁAD:

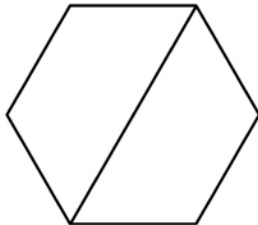
$\frac{2}{3}$

licznik
tyle części należy zamalować

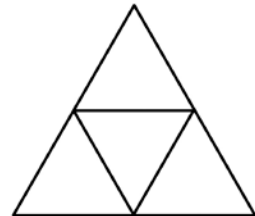
mianownik
na tyle części podzielono figurę



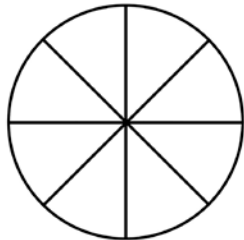
$\frac{1}{2}$



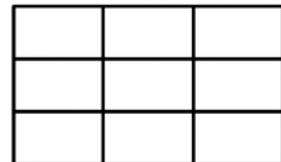
$\frac{4}{4}$




$\frac{6}{8}$



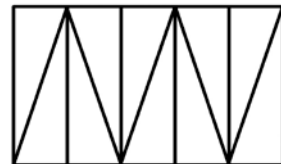
$\frac{4}{9}$




$\frac{5}{6}$



$\frac{2}{10}$



$\frac{8}{9}$



$\frac{3}{7}$

