


# Jaka to część? (7)

Przyjrzyj się uważnie poniższym obrazkom i na ich podstawie uzupełnij zdania.

W pola wykropkowane wpisz odpowiednie ułamki,  
a pozostałe luki uzupełnij słowami.




Ryby stanowią ..... wszystkich zwierząt.

..... ryb nie ma pasków.

Ułamek  $\frac{2}{12}$  opisuje, jaką część zwierząt

stanowią \_\_\_\_\_ .




Ułamek  $\frac{7}{10}$  odpowiada na pytanie: „Jaką

część zbioru stanowią \_\_\_\_\_ ?”.

Kury stanowią ..... wszystkich ptaków.

Zwierzęta hodowlane stanowią ..... zbioru.



..... zwierząt ma mniej niż cztery nogi,

a wśród nich ..... nie ma nóg wcale.

$\frac{2}{11}$  zwierząt stanowią \_\_\_\_\_ .